

~2

Если  $n \equiv 2$ , то  $2^n \equiv 2$  и  $n^{2016} \equiv 1 \Rightarrow (2^n + n^{2016}) \equiv 2 \Rightarrow (2^n + n^{2016})$  - четное

(чисел будет четным при  $2^n + n^{2016} \equiv 2$ , а это выполняется только при  $n \equiv 1$  при  $n > 1$   $n^{2016} \equiv 1$  и  $2^n > 0 \Rightarrow n \equiv 1$  - требуется  $n \equiv 1$   $2^n + n^{2016} \equiv 3$  - число, так как  $n$  - нечетное)

Если  $n \not\equiv 2$ , то  $n \equiv 3$ , тогда  $n = 3x$ , где  $x$  - натуральное число  
 Тогда наше равенство имеет вид  $2^{3x} + (3x)^{2016} = (2^x)^3 + ((3x)^{672})^3 =$

$$= (2^x + (3x)^{672}) (2^{2x} + (3x)^{672} + 2^x \cdot (3x)^{672})$$

$\left. \begin{aligned} &\text{при } x \text{ - натуральное } 2^x + (3x)^{672} > 1 \\ &2^{2x} + (3x)^{672} + 2^x \cdot (3x)^{672} > 1 \end{aligned} \right\} \Rightarrow 2^{3x} + (3x)^{2016} = 2^n + n^{2016}$   
 при  $n \equiv 3$  не число

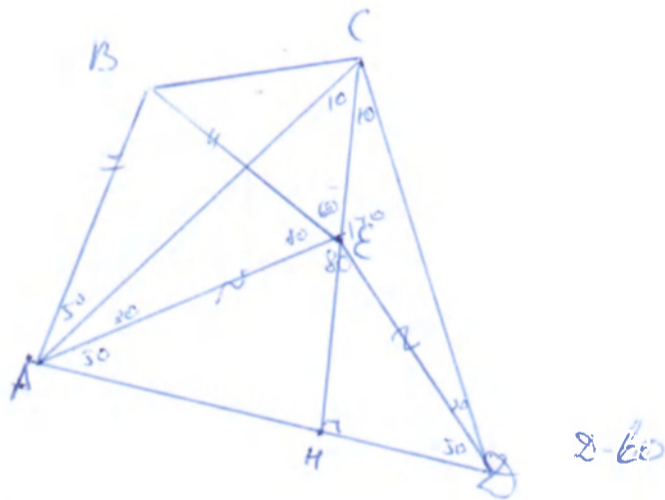
Если  $n \not\equiv 3$  и  $n \not\equiv 2$ , то  $2^n \equiv 2 \pmod{3}$   
 $n^{2016} \equiv 1 \pmod{3}$

$$\left\{ \begin{aligned} (2^n + n^{2016}) &\equiv 0 \pmod{3} \\ &\text{и} \end{aligned} \right.$$

Если  $n \neq 1$ , то  $2^n + n^{2016}$  - составное (иначе оно уже четное)

Ответ:  $n = 1$

~4



Дано:  $\triangle ABC$  - равнобедренный

$AB = BE$   $\angle A = \angle E = 80^\circ$   
 $\angle EAD = \angle EDA = 50^\circ$   $\angle CAD = \angle CDA = 80^\circ$   
 $D - 50^\circ$   $\triangle BEC$  - равнобедренный

$\angle BAE = \angle BEA = 80^\circ$   
 $\angle EAD = \angle EDA = 50^\circ$   
 $\angle CAD = \angle CDA = 80^\circ$

$\Rightarrow \triangle BAE, \triangle AED, \triangle ACD$  - равнобедренные  
 по двум углам в треугольниках  $\Downarrow$   
 $AE = ED$   
 $AC = CD$

$\angle CED = 180^\circ - 2 \cdot 50^\circ = 80^\circ$   
 $\angle ACD = 180^\circ - 2 \cdot 80^\circ = 20^\circ$   
 $\angle ABE = 180^\circ - 2 \cdot 80^\circ = 20^\circ$

$\angle EDC = \angle EDA + \angle ADC = 20^\circ$

по сумме углов в  $\triangle EDC$ :  $\angle CED = 140^\circ$

$\angle CED = \frac{\angle ACD}{2} = 10^\circ$   
 $\triangle ACD$  - равнобедренный  
 $CE$  - медиана в равнобедренном  $\triangle ACD$

2 стороны

II тур Формула единства

$\angle BEC + \angle CED + \angle AED + \angle BEA = 360^\circ$  (т.к. окружности все касаются)

$\angle BEC = 360^\circ - 80^\circ - 80^\circ - 140^\circ = 60^\circ$

По теореме син для  $\triangle ABE$

$AE = \frac{BE}{\sin \angle BAE} \cdot \sin \angle ABE$

По теореме син для  $\triangle DEC$

$EC = \frac{DE}{\sin \angle ECD} \cdot \sin \angle EDC$

$AE = ED$  (т.к.  $\triangle AED$  - равнобедренный)

$EC = \frac{BE \cdot \sin 20^\circ \cdot \sin 30^\circ}{\sin 80^\circ \cdot \sin 10^\circ}$

$EC = \frac{BE \cdot 2 \sin 10^\circ \cos 10^\circ \cdot \frac{1}{2}}{\cos 10^\circ \cdot \sin 10^\circ}$

$EC = BE$

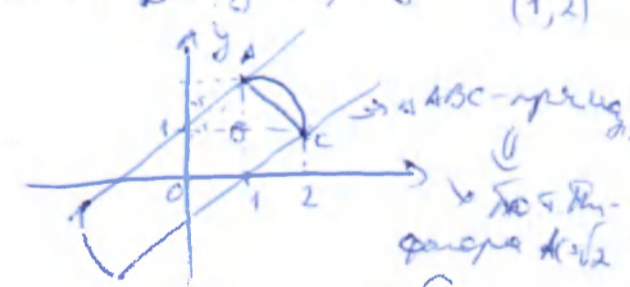
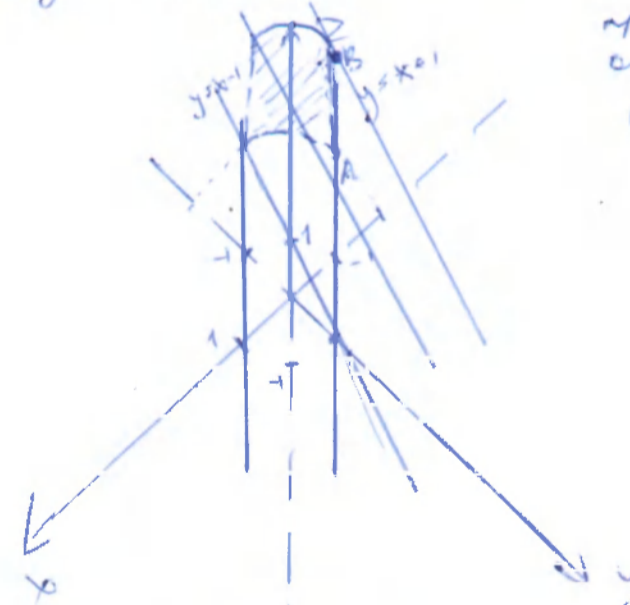
$EC = BE \Rightarrow \triangle BEC$  - равнобедренный (по определению)  
 т.к.  $\angle BEC = 60^\circ \Rightarrow \triangle BEC$  - равнобедренный (по двум сторонам и углу между ними)

3)  $x^2 + y^2 = 5$  - уравнение окружности с центром  $(0,0)$  и  $R = \sqrt{5}$

$|x-y| < 1 \Rightarrow -1 < x-y < 1$   
 $|y-2| < 1 \Rightarrow y+1 > 2 > y-1$

любая точка окружности имеет длину  $\frac{1}{2}$  в направлении касательной  
 касательная к окружности  $x^2 + y^2 = 5$  в точке  $(1,2)$  имеет уравнение  $y = x+1$

Изобразим это множество точек



$AO = OC = R = \sqrt{5}$   
 По т. кос для  $\triangle AOC$ :  
 $\cos \angle AOC = \frac{4}{5}$   
 $\angle AOC = \arccos \frac{4}{5}$

Так симметричная фигура заключена в данный элемент (т.е.  $y+1 > 2 > y-1$ ), то можно рассмотреть "кусочек" цилиндра с образующей 2 и углом  $\arccos \frac{4}{5}$ , а после развернуть на 2.

3 стороны

$$\text{длина дуги } AC = \left( \frac{2\pi \cdot R \alpha}{360^\circ} \right) = \frac{2\pi \sqrt{5} \arccos \frac{4}{5}}{360^\circ}$$

II тур Формула единства

$$S_{\text{дуги}} = 2 \cdot \left( l \cdot \sin \frac{\alpha}{2} \right) = 2 \cdot \frac{2\pi \sqrt{5} \arccos \frac{4}{5}}{360^\circ \cdot 45^\circ} = \frac{\pi \sqrt{5} \arccos \frac{4}{5}}{45^\circ}$$

Ответ:  $\frac{\pi \sqrt{5} \arccos \frac{4}{5}}{45^\circ}$

№5 Семь школьников (3 <sup>своих</sup> разряда): распределение по владеющим разрядов  $C_7^3$ . Выбор 1 владеющего - 3 варианта, второго - 3, третьего - 3.  $3!$  - варианты невладеющего разряда, но мы также должны мы на каждый себе отбавим  $3!$

$$\frac{C_7^3 \cdot 3 \cdot 3 \cdot 3 \cdot 3!}{3!} = 4 \cdot 3^3$$

2 школьника:  $C_7^2$  - распределение владеющих разрядов.  
3-3 различных значений  $\rightarrow$   
 $3!3!$  - невладеющих разрядов  
 $2!$  - сколько раз отбавим

$$\frac{4! \cdot 3 \cdot 3 \cdot 3! \cdot 3!}{2! \cdot 2! \cdot 3!} = 12 \cdot 3^3 = 3^4 \cdot 4$$

3 школьника по таблице  $C_7^1; 3; (3!)^3; 3!$

$$\frac{3 \cdot 4 \cdot 3! \cdot 3! \cdot 3!}{3!} = 3^3 \cdot 16$$

4 школьника:  $(3!)^4$  - <sup>супер-вариантов</sup> различных различных владеющих разрядов  
 $3!$  - отбавим

$$\frac{(3!)^4}{3!} = (3!)^3 = 3^3 \cdot 8$$

Ответ: 3 школьника больше всего.